

Roll No.

रोल नं.

--	--	--	--	--	--	--	--	--	--

Series RLH

Code No. 32/1
कोड नं.

- Please check that this question paper contains 9 printed pages + 3 Maps.
- Code number given on the right hand side of the question paper should be written on the title page of the answer-book by the candidate.
- Please check that this question paper contains 30 questions.
- Please write down the serial number of the question before attempting it.
- कृपया जाँच कर लें कि इस प्रश्न-पत्र में मुद्रित पृष्ठ 9 + 3 मानचित्र हैं।
- प्रश्न-पत्र में दाहिने हाथ की ओर दिए गए कोड नम्बर को छात्र उत्तर-पुस्तिका के मुख-पृष्ठ पर लिखें।
- कृपया जाँच कर लें कि इस प्रश्न-पत्र में 30 प्रश्न हैं।
- कृपया प्रश्न का उत्तर लिखना शुरू करने से पहले, प्रश्न का क्रमांक अवश्य लिखें।

SOCIAL SCIENCE सामाजिक विज्ञान

Time allowed : 3 hours

निर्धारित समय : 3 घण्टे

Maximum Marks : 80

अधिकतम अंक : 80

General Instructions :

- (i) There are 30 questions in all. All questions are compulsory.
- (ii) Marks for each question are indicated against the question.
- (iii) Questions from serial number 1 to 10 are 1-mark questions. Answer of these questions may be from **one word to one sentence**.
- (iv) Questions from serial number 11 to 18 are 3-marks questions. Answer of these questions should not exceed 80 words each.
- (v) Questions from serial number 19 to 28 are 4-marks questions. Answer of these questions should not exceed 100 words each.
- (vi) Questions number 29 and 30 are map questions. Attach the maps inside your answer book.

सामान्य निर्देश :

- (i) कुल 30 प्रश्न हैं। सभी प्रश्न अनिवार्य हैं।
- (ii) प्रत्येक प्रश्न के अंक प्रश्न के सामने दिए गए हैं।
- (iii) प्रश्न संख्या 1 से 10 तक के प्रश्न एक-एक अंक के हैं। इन प्रश्नों का उत्तर एक शब्द अथवा एक वाक्य से अधिक का नहीं होना चाहिए।
- (iv) प्रश्न संख्या 11 से 18 तक के प्रश्न तीन-तीन अंकों के हैं। इन प्रश्नों का उत्तर 80 शब्दों से अधिक का नहीं होना चाहिए।
- (v) प्रश्न संख्या 19 से 28 तक के प्रश्न चार-चार अंकों के हैं। इन प्रश्नों का उत्तर 100 शब्दों से अधिक का नहीं होना चाहिए।
- (vi) प्रश्न संख्या 29 व 30 मानचित्र से संबंधित प्रश्न हैं। दिए गए मानचित्र अपनी उत्तर पुस्तिका के भीतर संलग्न कीजिए।

1. What was the notion of Swaraj for plantation workers in Assam ?

1

असम में बागानी मजदूरों के लिए स्वराज की अवधारणा क्या थी ?

2. Mention growing and harvesting periods of Rabi crops. $\frac{1}{2} + \frac{1}{2} = 1$
 रबी की फसलों की उगाने तथा काटने की अवधियों का उल्लेख कीजिए ।
3. Define the term 'dam'. 1
 'बाँध' शब्द की परिभाषा दीजिए ।
4. Classify manufacturing industries into two groups on the basis of source of raw materials used. $\frac{1}{2} + \frac{1}{2} = 1$
 प्रयुक्त कच्चे माल के स्रोत के आधार पर विनिर्माण उद्योगों को दो वर्गों में वर्गीकृत कीजिए ।
5. What is the meaning of 'patriarchal' society? 1
 'पितृतंत्रात्मक' समाज का क्या अर्थ है ?
6. Define the term 'Feminist'. 1
 'नारीवादी' शब्द की परिभाषा दीजिए ।
7. What is the challenge of expansion? 1
 विस्तार की चुनौती से क्या अभिप्राय है ?
8. According to the World Bank, classify the countries of the world into two groups on the basis of per capita annual income. $\frac{1}{2} + \frac{1}{2} = 1$
 विश्व बैंक के अनुसार प्रति व्यक्ति वार्षिक आय के आधार पर विश्व के देशों को दो वर्गों में बाँटिए ।
9. Which agency works for our safety at the State level during disasters? 1
 आपदाओं के समय कौनसी एजेंसी हमारी सुरक्षा के लिए राज्य स्तर पर कार्य करती है ?
10. What is the main aim of Nehru Yuva Kendra? 1
 नेहरू युवा केन्द्र का मुख्य उद्देश्य क्या है ?
11. Satyagraha is not physical force. A *satyagrahi* does not inflict pain on the adversary; he does not seek his destruction ... In the use of *satyagraha*, there is no ill-will whatever.
 Satyagraha is pure soul-force. Truth is the very substance of the soul. That is why this force is called satyagraha. The soul is informed with knowledge. In it burns the flame of love. ... Non-violence is the supreme *dharma* ...

Read the above passage and answer the following questions :

1+2=3

(11.1) Who spoke these words ?

(11.2) Explain two differences between physical force and soul-force, with examples.

सत्याग्रह शारीरिक बल नहीं है । सत्याग्रही अपने शत्रु को कष्ट नहीं पहुँचाता; वह अपने शत्रु का विनाश नहीं चाहता । ... सत्याग्रह के प्रयोग में दुर्भावना के लिए कोई स्थान नहीं होता ।

सत्याग्रह तो शुद्ध आत्मबल है । सत्य ही आत्मा का आधार होता है । इसीलिए इस बल को सत्याग्रह का नाम दिया गया है । आत्मा ज्ञान से हमेशा लैस होती है । इसमें प्यार की लौ जलती है । ... अहिंसा सर्वोच्च धर्म है । ...

ऊपर दिए गए अनुच्छेद को पढ़िए और निम्नलिखित प्रश्नों के उत्तर दीजिए :

(11.1) ये शब्द किसने कहे हैं ?

(11.2) शारीरिक बल और आत्मबल में उदाहरणों सहित दो अन्तर स्पष्ट कीजिए ।

Note : Below are given three groups — A, B and C for questions number 12 and 13. Select any **one** group for answering these two questions.

नोट : प्रश्न संख्या 12 और 13 के लिए नीचे क, ख और ग तीन समूह दिए गए हैं। इन दोनों प्रश्नों के उत्तर के लिए किसी एक समूह को ही चुनिए।

GROUP A

समूह क

12. Explain the three types of flows within the international economic exchanges during 1815 – 1914. 3×1=3

1815-1914 के मध्य अन्तर्राष्ट्रीय आर्थिक विनिमय में तीन प्रकार के प्रवाहों को स्पष्ट कीजिए।

13. How had a series of inventions in the eighteenth century increased the efficiency of each step of the production process in cotton textile industry ? Explain. 3

अठारहवीं सदी में नए आविष्कारों की श्रृंखला ने सूती वस्त्र उद्योग की उत्पादन प्रक्रिया के प्रत्येक चरण में कुशलता को किस प्रकार बढ़ाया ? स्पष्ट कीजिए।

GROUP B

समूह ख

12. Who were the jobbers ? Explain their functions. 1+2=3

जॉबर कौन थे ? उनके कार्यों को स्पष्ट कीजिए।

13. Why is Mumbai (Bombay) known as the city of dreams ? Give three reasons. 3×1=3

मुम्बई (बम्बई) को सपनों का शहर क्यों कहा जाता है ? तीन कारण दीजिए।

GROUP C

समूह ग

12. Define the term 'trade surplus'. How was the income received from trade surplus with India used by Britain ? 1+2=3

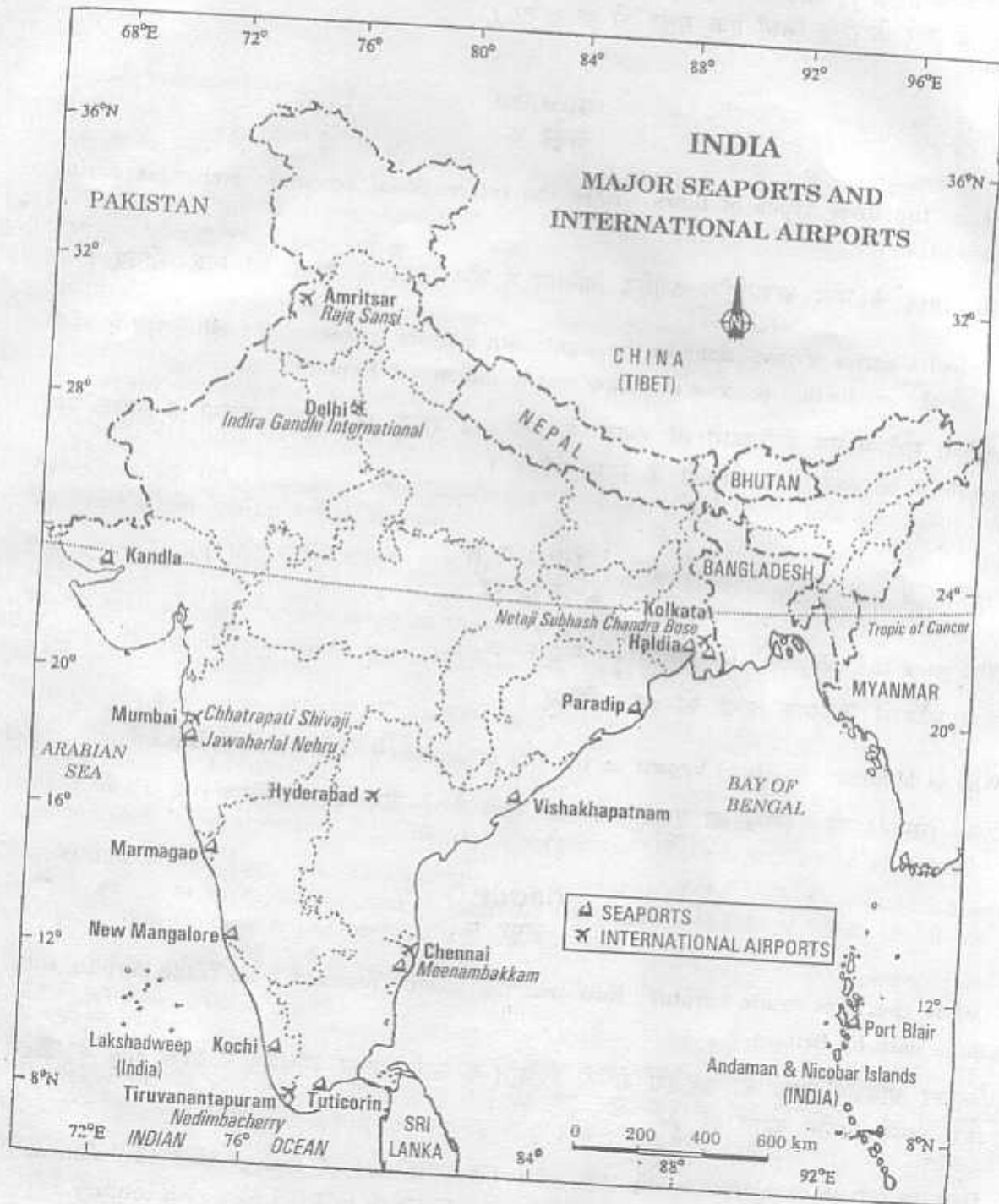
'व्यापार अधिशेष' शब्द की परिभाषा दीजिए। भारत के साथ व्यापार अधिशेष से प्राप्त आय का ब्रिटेन किस प्रकार उपयोग करता था ?

13. How is urban development directly related to the cost of ecology and environment ? Explain, giving examples of industrial cities of England in the nineteenth century. 3

नगरीय विकास सीधे-तौर पर पारिस्थितिकी और पर्यावरण की कीमत से किस प्रकार जुड़ा है ? उन्नीसवीं सदी के इंग्लैण्ड के औद्योगिक नगरों को उदाहरण के रूप में प्रस्तुत करते हुए स्पष्ट कीजिए।

14. Study the map given below showing major seaports and international airports of India carefully and answer the questions that follow :

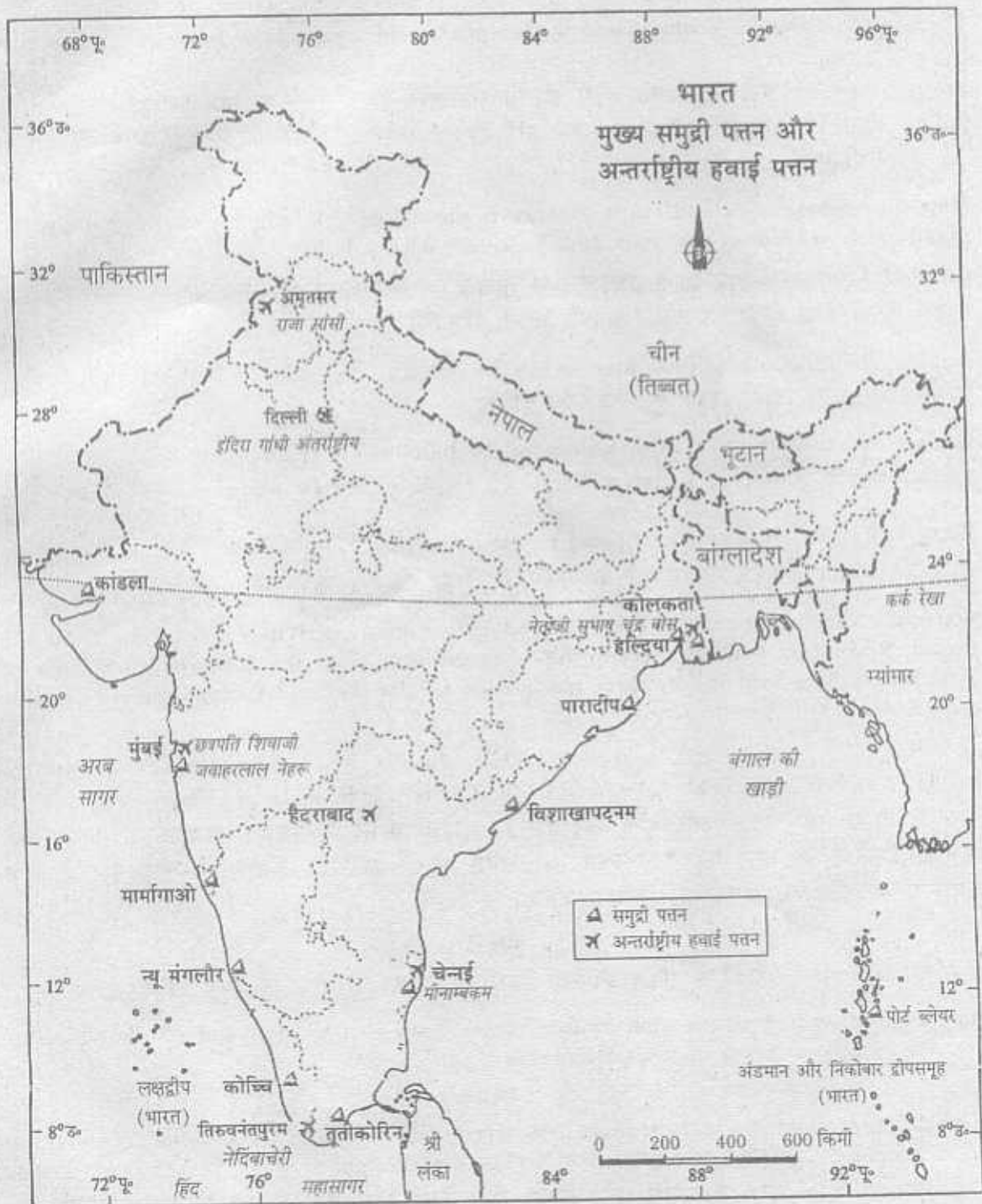
$$1\frac{1}{2} + 1\frac{1}{2} = 3$$



(14.1) Name three states which have major seaports but do not have international airports as shown in the map given above.

(14.2) Write the names of the major seaports of these states.

नीचे दिए गए मानचित्र का ध्यानपूर्वक अध्ययन कीजिए जिसमें भारत के मुख्य समुद्री पत्तन तथा अन्तर्राष्ट्रीय हवाई पत्तन दिखाए गए हैं और उसके नीचे दिए गए प्रश्नों के उत्तर दीजिए :



- (14.1) उन तीन राज्यों के नाम बताइए जिनमें मुख्य समुद्री पत्तन तो हैं, परन्तु अन्तर्राष्ट्रीय हवाई पत्तन नहीं हैं जैसा कि ऊपर दिए गए मानचित्र में दिखाया गया है ।
- (14.2) इन राज्यों से सम्बन्धित मुख्य समुद्री पत्तनों के नाम लिखिए ।

Note : The following question is for the **Blind Candidates** only in lieu of Q. No. 14.

नोट : निम्नलिखित प्रश्न केवल **दृष्टिहीन परीक्षार्थियों** के लिए प्रश्न संख्या 14 के स्थान पर है।

- (14.1) Name the northernmost and southernmost international airports of India. 1+2=3
- (14.2) Name the easternmost and westernmost major seaports of India along with their states.
- (14.1) भारत के सबसे उत्तरी तथा सबसे दक्षिणी अंतर्राष्ट्रीय हवाई पत्तनों के नाम लिखिए।
- (14.2) भारत के सबसे पूर्वी तथा सबसे पश्चिमी मुख्य समुद्री पत्तनों के नाम उनके राज्यों के साथ लिखिए।
15. How does democracy stand much superior to any other form of government in promoting dignity and freedom of the individual? Explain with suitable examples. $1\frac{1}{2} + 1\frac{1}{2} = 3$
- व्यक्ति की गरिमा और आजादी के प्रोत्साहन में लोकतांत्रिक व्यवस्था किसी अन्य शासन प्रणाली से किस प्रकार अधिक श्रेष्ठ है? उपयुक्त उदाहरणों सहित स्पष्ट कीजिए।
16. Analyse the functions of consumer protection councils. 3
- उपभोक्ता सुरक्षा परिषदों के कार्यों का विश्लेषण कीजिए।
17. Explain any three protection measures for the buildings in flood-prone areas. 3×1=3
- बाढ़ग्रस्त क्षेत्रों में इमारतों के संरक्षण के किन्हीं तीन उपायों की व्याख्या कीजिए।
18. Write any six qualities of search and rescue volunteers. $6 \times \frac{1}{2} = 3$
- खोज और बचाव दल के स्वयंसेवकों के किन्हीं छः गुणों को लिखिए।
19. When did the first clear-cut expression of nationalism come in France? How did the French Revolution lead to the transfer of sovereignty from the monarchy to a body of French citizens? Explain any three measures taken by the French revolutionaries in this regard. 1+3=4

OR

Explain any four major challenges faced by the Democratic Republic of Vietnam. 4×1=4

फ्रांस में राष्ट्रवाद की पहली अभिव्यक्ति कब हुई? फ्रांसीसी क्रान्ति ने प्रभुसत्ता राजतन्त्र से निकाल कर फ्रांसीसी नागरिकों के समूह को किस प्रकार हस्तान्तरित की? फ्रांसीसी क्रान्तिकारियों द्वारा इस संदर्भ में उठाए गए किन्हीं तीन उपायों की व्याख्या कीजिए।

अथवा

वियतनाम लोकतांत्रिक गणतंत्र के समक्ष उपस्थित किन्हीं चार प्रमुख चुनौतियों को स्पष्ट कीजिए।

20. How were ideas and information written before the age of print in India? How did the printing technique begin in India? Explain. 2+2=4

OR

How did the colonial administrators find vernacular novels to be a valuable source of information on native life and customs? Explain with examples. 4×1=4

मुद्रण युग से पहले भारत में सूचना और विचार कैसे लिखे जाते थे? भारत में मुद्रण तकनीक का चलन किस प्रकार प्रारम्भ हुआ? स्पष्ट कीजिए।

अथवा

औपनिवेशिक प्रशासकों को देशी उपन्यासों में देशी जीवन और रीतिरिवाजों से जुड़ी जानकारी का बहुमूल्य स्रोत किस प्रकार नजर आया? उदाहरणों सहित स्पष्ट कीजिए।

21. Classify resources on the basis of the status of development into four groups. Explain the main features of each group. 2+2=4

संसाधनों को विकास के स्तर के आधार पर चार वर्गों में बाँटिए। प्रत्येक वर्ग की मुख्य विशेषताओं की व्याख्या कीजिए।

22. Which is the most abundantly available fossil fuel in India ? What are its three major forms ? Write main features of each form. $1+1\frac{1}{2}+1\frac{1}{2}=4$

भारत में कौनसा जीवाश्म ईंधन बहुतायत में पाया जाता है ? इसके तीन मुख्य रूप कौनसे हैं ? प्रत्येक रूप की मुख्य विशेषताएँ लिखिए।

23. Why is there a lack of internal democracy within the political parties in India ? Explain with examples. 4

भारत में राजनीतिक दलों के भीतर आन्तरिक लोकतंत्र की कमी क्यों है ? उदाहरणों सहित स्पष्ट कीजिए।

24. "Some people conclude that politics and social divisions should not be allowed to mix." Support this idea with two arguments. 2+2=4

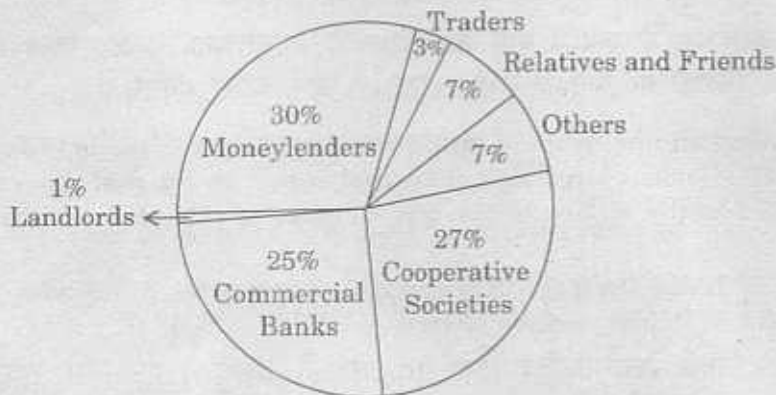
"कुछ लोग यह निष्कर्ष निकालते हैं कि राजनीति और सामाजिक विभाजनों का मेल नहीं होना चाहिए।" इस विचार की दो तर्कों की सहायता से पुष्टि कीजिए।

25. Describe any four features of federal government. 4×1=4

संघीय शासन व्यवस्था की किन्हीं चार विशेषताओं का वर्णन कीजिए।

26. Study the diagram given below and answer the questions that follow : 1+1+2=4

Sources of Credit for Rural Households in India in 2003



- (26.1) Which are the two major sources of credit for rural households in India ?
 (26.2) Which one of them is the most dominant source of credit for rural households ?
 (26.3) Why is it the most dominant source of credit ? Give two reasons.

नीचे दिए गए आरेख का अध्ययन कीजिए और आरेख के नीचे दिए गए प्रश्नों के उत्तर दीजिए :
वर्ष 2003 में भारत में ग्रामीण परिवारों के साख के स्रोत



- (26.1) भारत में ग्रामीण परिवारों के लिए साख के दो प्रमुख स्रोत कौनसे हैं ?
 (26.2) इनमें से ग्रामीण परिवारों के साख का सबसे प्रभावी स्रोत कौनसा है ?
 (26.3) यह साख का सबसे प्रभावी स्रोत क्यों है ? दो कारण दीजिए ।

Note : The following question is for the **Blind Candidates only in lieu of Q. No. 26.**

नोट : निम्नलिखित प्रश्न केवल **दृष्टिहीन परीक्षार्थियों** के लिए प्रश्न संख्या 26 के स्थान पर है ।

What are the two main groups of credit for rural households in India ? State two features of each.

2+2=4

भारत में ग्रामीण परिवारों के साख के लिए दो प्रमुख समूह कौनसे हैं ? प्रत्येक की दो विशेषताओं का उल्लेख कीजिए ।

27. Distinguish between primary sector and secondary sector by stating four points of distinction.

4×1=4

प्राथमिक क्षेत्रक और द्वितीयक क्षेत्रक में चार बिन्दु देते हुए अन्तर स्पष्ट कीजिए ।

28. Why is 'tax' on imports known as a trade barrier ? Why did the Indian Government impose barriers to foreign trade and foreign investments after Independence ? Give three reasons.

1+3=4

आयात पर 'कर' को व्यापार अवरोधक के रूप में क्यों जाना जाता है ? स्वतंत्रता के बाद भारत सरकार ने विदेशी व्यापार तथा विदेशी निवेशों पर प्रतिबंध क्यों लगाया ? तीन कारण दीजिए ।

29. (i) On the given political outline map of **India** (on page 10), a place is shown by number 1, which was a famous large-scale industrial region on the eastern coast of the country in 1931. Identify and write the correct name of this place on the line drawn on the map.

1

(ii) On the same map of **India** (on page 10), shade and name the state where the Champaran movement of Indigo planters started.

1

(i) दिए गए **भारत** के राजनीतिक रेखा-मानचित्र (पृष्ठ 10 पर) में संख्या 1 द्वारा उस स्थान को दिखाया गया है जो सन् 1931 में देश के पूर्वी तट पर एक प्रसिद्ध बड़े पैमाने का औद्योगिक क्षेत्र था । इस स्थान की पहचान कीजिए और उसका सही नाम मानचित्र पर खींची गई रेखा पर लिखिए ।

(ii) **भारत** के इसी मानचित्र (पृष्ठ 10 पर) में उस राज्य को छायांकित कीजिए और उसका नाम लिखिए जहाँ नील की खेती करने वाले किसानों ने चम्पारन आंदोलन शुरू किया था ।

30. On the given political outline map of **India** (on page 11), are shown four geographical features A, B, C and D. Identify these features with the help of the map key and write their correct names on the line marked against each in the map.

4×1=4

OR

On the given political outline map of **India** (on page 12), locate and label the following features :

4×1=4

- (i) Tehri Dam
- (ii) Korba Thermal Power Plant
- (iii) Coimbatore – Cotton Textile Industry
- (iv) Pune – Software Technological Park

दिए गए भारत के राजनीतिक रेखा-मानचित्र (पृष्ठ 11 पर) में चार भौगोलिक लक्षण A, B, C और D दिखाए गए हैं। मानचित्र में दी गई कुंजी की मदद से इन लक्षणों को पहचानिए और मानचित्र में प्रत्येक के सामने दी गई रेखा पर उनके सही नाम लिखिए।

अथवा

दिए गए भारत के राजनीतिक रेखा-मानचित्र (पृष्ठ 12 पर) में निम्नलिखित लक्षणों की स्थिति दिखाइए और उनके नाम लिखिए :

- (i) टेहरी बाँध
- (ii) कोरबा ताप शक्ति संयंत्र
- (iii) कोयम्बटूर – सूती वस्त्र उद्योग
- (iv) पुणे – सॉफ्टवेयर प्रौद्योगिकी पार्क

Note : The following question is for the **Blind Candidates** only in lieu of Q. No. 29 and 30.

नोट : निम्नलिखित प्रश्न केवल **दृष्टिहीन परीक्षार्थियों** के लिए प्रश्न संख्या 29 और 30 के स्थान पर है।

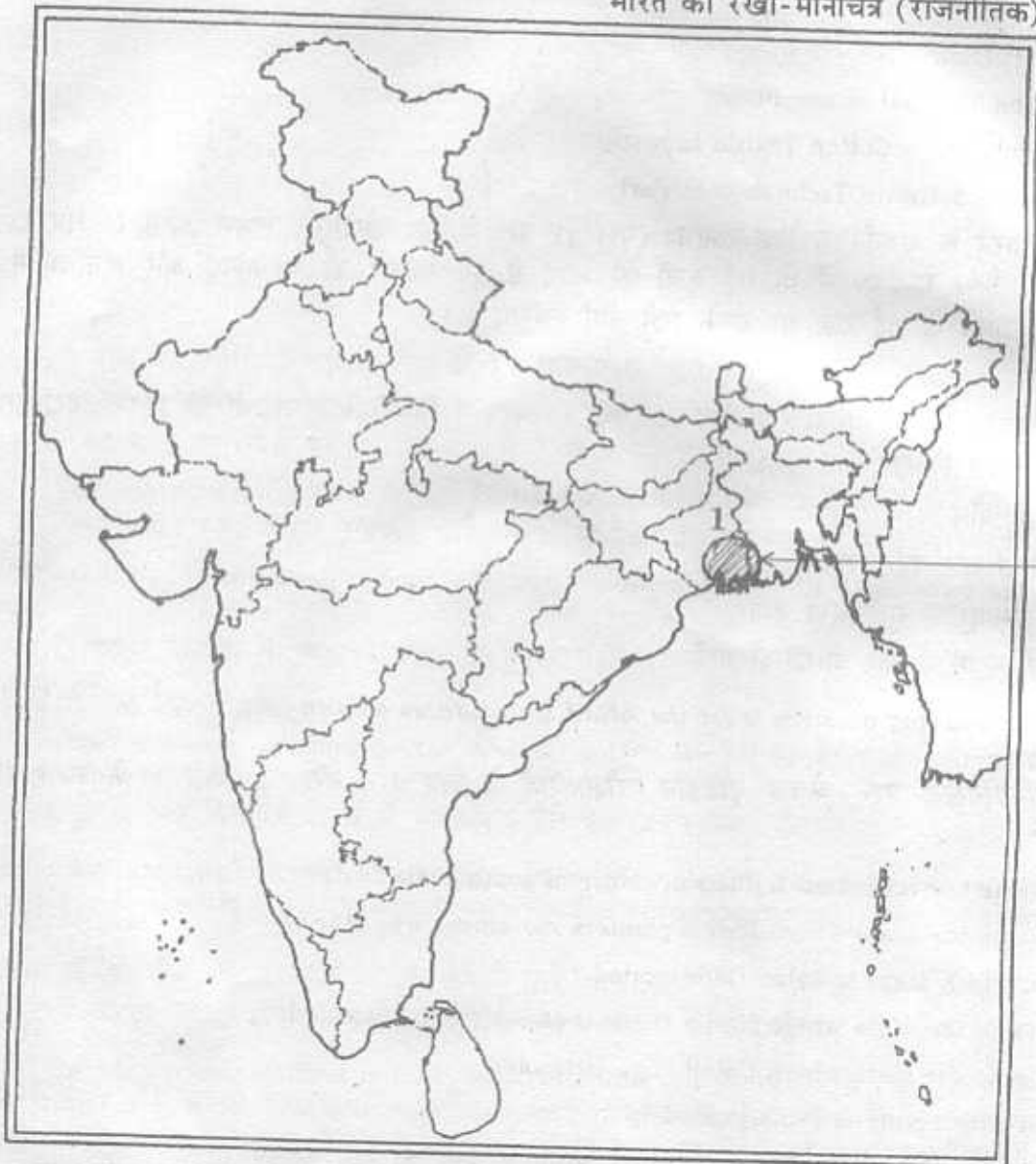
- (i) Name the important industrial centre of south India in 1931.
- (ii) Name the state where Indigo planters movement was started.
- (iii) In which state is Tehri Dam located ?
- (iv) Name the state where Korba thermal power plant is located.
- (v) Name the state where Coimbatore is located.
- (vi) In which state is Pune located ?

6×1=6

- (i) सन् 1931 में दक्षिण भारत के महत्वपूर्ण औद्योगिक केन्द्र का नाम बताइए।
- (ii) उस राज्य का नाम बताइए जहाँ से नील की खेती करने वाले किसानों का आंदोलन शुरू हुआ था।
- (iii) टेहरी बाँध किस राज्य में स्थित है ?
- (iv) उस राज्य का नाम बताइए जिसमें कोरबा ताप शक्ति संयंत्र स्थित है।
- (v) कोयम्बटूर किस राज्य में स्थित है ?
- (vi) पुणे किस राज्य में स्थित है ?

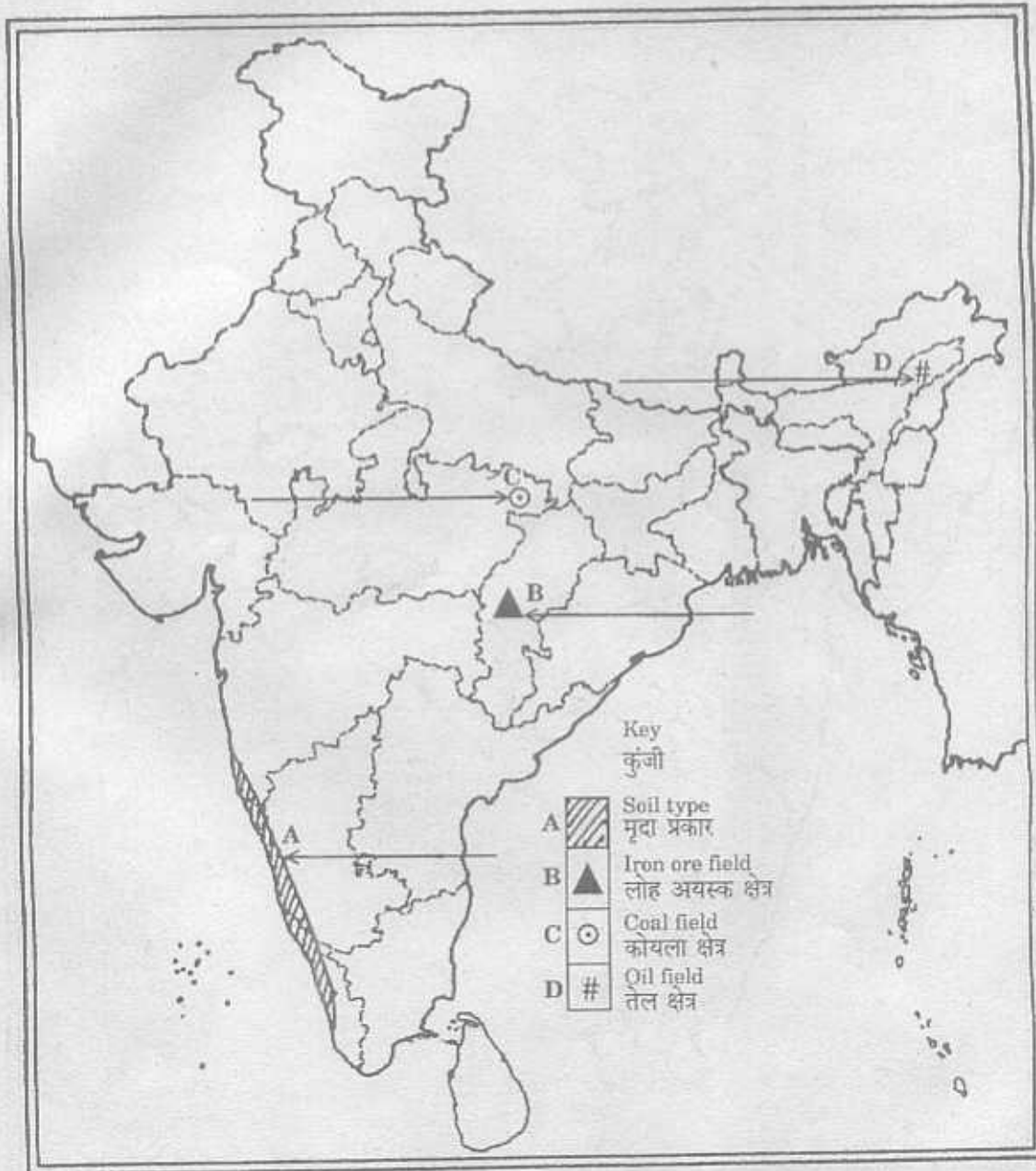
Outline Map of India (Political)

भारत का रेखा-मानचित्र (राजनीतिक)



Outline Map of India (Political)

भारत का रेखा-मानचित्र (राजनीतिक)



Outline Map of India (Political)

भारत का रेखा-मानचित्र (राजनीतिक)

